


## Le nombre 10


Nom :

Date :

Ajoute les points sur les dominos pour atteindre le nombre 10, puis complète les égalités.

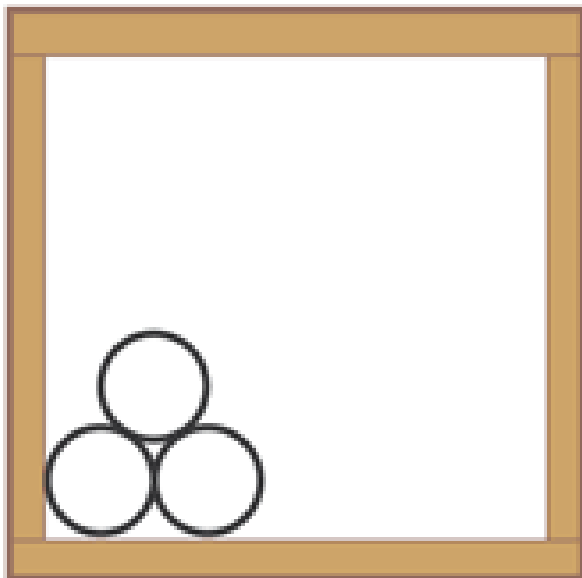


$$4 + \dots = 10$$




$$5 + \dots = 10$$

Dessine les balles qui manquent dans chaque caisse pour arriver à 10, puis complète les égalités.



$$3 + \dots = 10$$



$$7 + \dots = 10$$